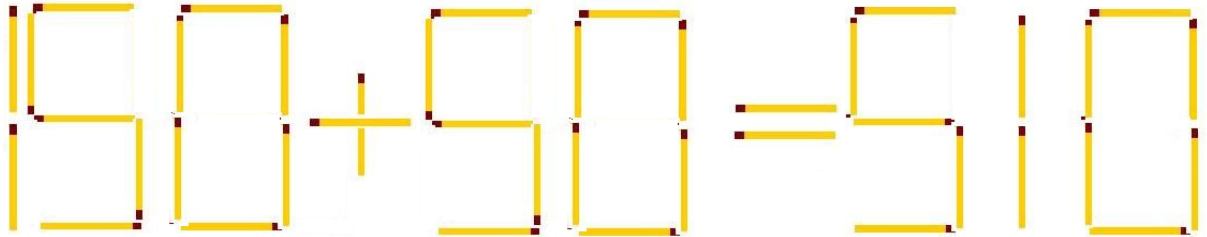


Zagadki matematyczne cz. II

(z cyfry znalezione w sieci ☺)

















1.

Przesuń jedną zapalniczkę tak, aby uzyskać prawdziwą równość.



2.

Jaką liczbę należy wpisać w miejsce znaku zapytania?

				28
				?
				23
				21
19	24	26	17	

3.

A chalkboard with a math puzzle. The equations are written in white chalk on a dark background. The last equation has a question mark in orange.

$$\begin{aligned} 1 + 4 &= 5 \\ 2 + 5 &= 12 \\ 3 + 6 &= 21 \\ 8 + 11 &= ? \end{aligned}$$

Bardzo proszę o pełne rozwiązania zagadek 😊